

פתרו את החידות הבאות.

1. לפניכם שלושה משפטים הנוגעים לגבי מבנה מפורסם.

בחרו את המבנה המתאים.

א. הוא נמצא ביבשת אירופה

ב. בשמו מופיעה האות פ'

ג. בשמו לא מופיעה האות ז'



פסל החירות



מגדל פיזה



מגדל אייפל



החומה הגדולה של סין



פירמידות גיזה



ביג בן

2. פענחו את שם המדינה.

צבע ירוק מסמל אות נכונה במיקום הנכון

צבע צהוב מסמל אות נכונה אך במיקום שגוי

צבע אדום מסמל אות שגויה

קבעו מהי המילה הנכונה.


סגור

ברד

עמוד

מדינה: _____

פענחו את ההגדרה ושבצו אותה במקום המתאים.



מאונך

1. קופסה לשמירת מזון קר
2. ידיד
3. מחייה השפה העברית (6, 2, 5)

מאוזן

3. עיר הבירה של יוון
4. תיק קטן
5. מבשר את בוא הסתיו
6. מתנה
7. ענב מיובש

סדרו את המילים מהמאגר כך שייווצר משפט הגיוני.

1. _____

like

music

I

listen

to

to

2. _____

favorite

my

is

color

yellow

3. _____

watches

television

he

couch

on

the

4. _____

party

they

going

together

a

to

are

5. _____

play

at

home

we

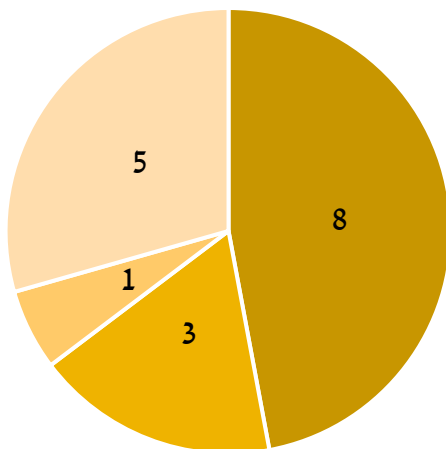
פתרו את התרגילים שמופיעים בטבלה.
 לאחר מכן, על מנת לעזור לחתול להגיע אל העכבר,
 צבעו רק את התרגילים שתוצאתם מתחלקת ב-5.



$18 \times 5 =$ _____	$10 \times 2 =$ _____	$7 \times 8 =$ _____	$20 : 5 =$ _____
$400 - 12 =$ _____	$20 : 4 =$ _____	$81 : 9 =$ _____	$1251 + 61 =$ _____
$14 \times 8 =$ _____	$5 \times 7 =$ _____	$18 \times 10 =$ _____	$412 - 57 =$ _____
$17 \times 3 =$ _____	$42 : 2 =$ _____	$42 \times 2 =$ _____	$8 \times 5 =$ _____
$123 + 16 =$ _____	$81 - 5 =$ _____	$50 : 5 =$ _____	$17 \times 10 =$ _____
$48 + 13 =$ _____	$14 + 78 =$ _____	$120 - 5 =$ _____	$17 \times 4 =$ _____
$98 - 14 =$ _____	$18 \times 2 =$ _____	$950 - 40 =$ _____	$20 \times 8 =$ _____



לפניכם תרשים המתאר את כמות החיות שיש בגינה של משפחת שפירו. עיינו בתרשים וענו על השאלות שאחריו.



■ ארנבים ■ תרנגולות ■ כלבים ■ תוכים

1. כמה חיות יש למשפחת שפירו?

ד. 18

ג. 17

ב. 16

א. 13

2. האם כמות הארנבים שווה למחצית מכמות החיות?

ג. אי אפשר לדעת

ב. לא

א. כן

3. מה יש למשפחת שפירו יותר – עופות וציפורים או יונקים?

ג. אי אפשר לדעת

ב. יונקים

א. עופות וציפורים

4. גלעד הכפיל את כמות הארנבים בגינה, כמה חיות יש בגינה כעת?


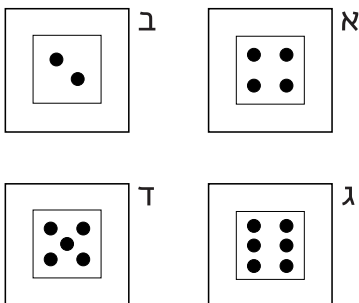

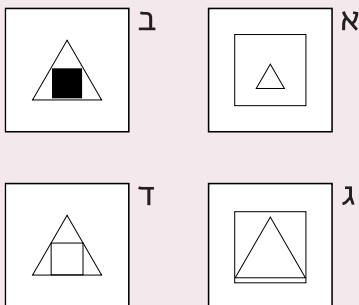
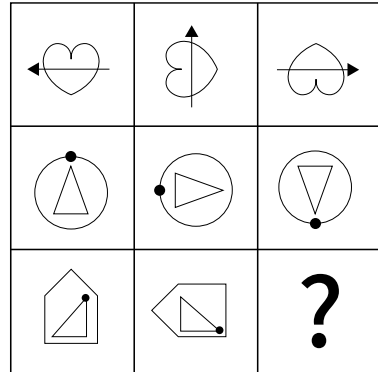
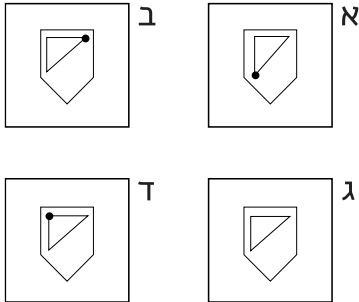
ד. 25

ג. 19

ב. 27

א. 21

לפניכם תשע צורות המסודרות בטבלה. הצורות מקיימות ביניהן קשר, עליכם להבין את העיקרון שעל פיו מסודרות הצורות, ועל בסיס זה למצוא את הצורה החסרה.



התאימו בין התמונה למילה ומתחו ביניהן קו.



window



mailbox



chair

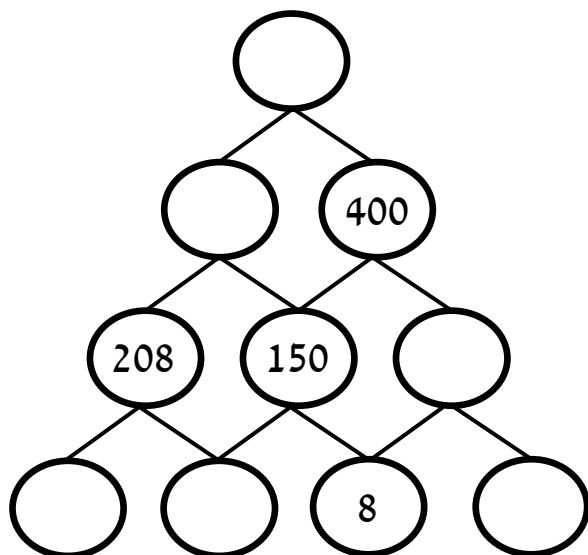
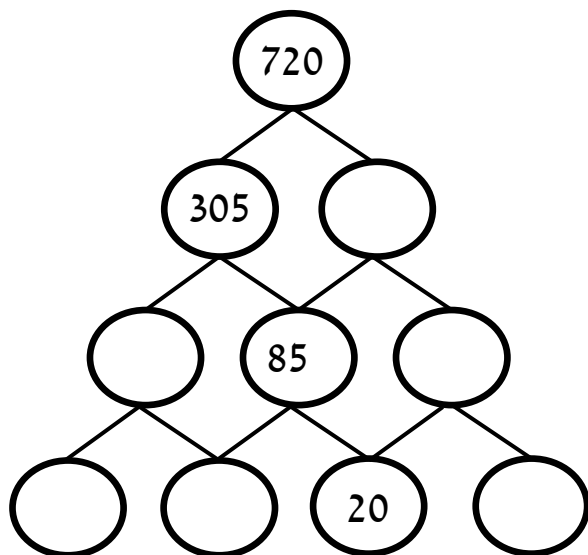


bed



sofa

בכל חיבור של שני עיגולים סמוכים בפירמידה צריך להתקבל המספר שמעליהם. השלימו את המספרים החסרים.



ענו על השאלות הבאות:

1. מי היה הרמטכ"ל הראשון?

א. יצחק רבין ב. יעקב דורי ג. משה דיין ד. אביב כוכבי

2. איזה צבע מתקבל מערבוב של לבן ואדום?

א. ורוד ב. סגול ג. כתום ד. ירוק

3. מהו ההר הגבוה בישראל?

א. הר תבור ב. האוורסט ג. הר מירון ד. הר החרמון

4. מהי בירת בלגיה?

א. פריז ב. בריסל ג. ספרטה ד. טוקיו

5. באיזה תאריך חל יום העצמאות?

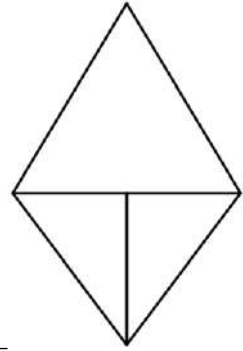
א. י"ז בטבת ב. א' באייר ג. ה' באייר ד. ט' באייר

6. מי כתב את השיר "ירושלים של זהב"?

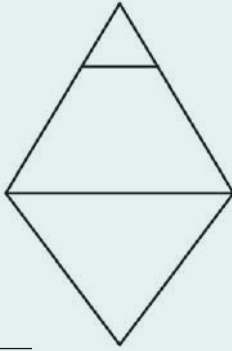
א. נעמי שמר ב. נתן אלתרמן ג. לאה גולדברג ד. רחל המשוררת

ספרו כמה משולשים יש בצורות הבאות.

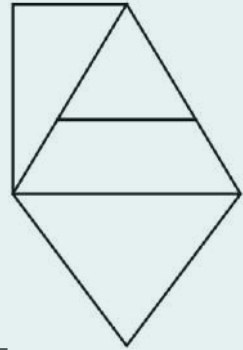
.1



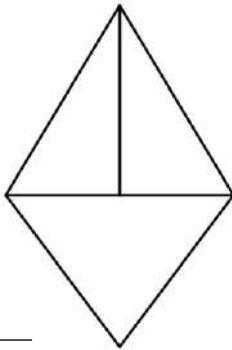
.4



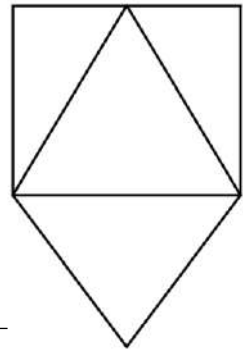
.2



.5



.3



.6

